
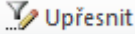




TEST – STŘEDNĚ POKROČILÁ ÚROVEŇ EXCEL

1. Šablona vytvořená v Excelu má kterou koncovku?	<ul style="list-style-type: none"> a) .xls b) .xltx c) .csv d) .pdf
2. U listu nemůžeme nastavit	<ul style="list-style-type: none"> a) Barvu záložky b) Jméno c) Viditelnost d) Stejně jméno vícekrát
3. Zamčené buňky se nedají	<ul style="list-style-type: none"> a) Zkopírovat b) Přepsat c) Zobrazit d) Označit
4. Rozšířený filtr aktivujeme pomocí ikony	<ul style="list-style-type: none"> a)  b)  c)  d) 
5. Vlastní formát datumů nepoužívá symbol	<ul style="list-style-type: none"> a) d b) r c) m d) t
6. Která funkce zobrazí výsledek pro (ne)správnost podmínky?	<ul style="list-style-type: none"> a) Countif b) Sumif c) Když d) Jestli
7. Podmíněné formátování nekontroluje	<ul style="list-style-type: none"> a) Velikost buňky b) Hodnotu čísla c) Hodnotu vzorce d) Hodnotu textu
8. Kopírování vzorce se dělá	<ul style="list-style-type: none"> a) Přesunem buňky b) Přepisem vzorce c) Pravým dolním rohem buňky d) Levým horním rohem buňky
9. Který tvar buňky vyjadřuje fixní pozici sloupce při kopírování vzorce?	<ul style="list-style-type: none"> a) \$\$A1 b) &A1 c) A&1 d) \$A1
10. Kontingenční tabulka je	<ul style="list-style-type: none"> a) Grafické znázornění čísel b) Automatická tabulka c) Souhrnný nástroj d) Porovnává čísla a funkce ve dvou polovinách obrazovky

SPRÁVNÉ ODPOVĚDI:

- 1) B
- 2) D
- 3) B
- 4) B
- 5) D
- 6) C
- 7) A
- 8) C
- 9) D
- 10) C